

“Construindo a Educação pelos Caminhos do Amor”

Disciplina: Matemática	Data: / /2020	Turma: 3º Ano
Educador (a): Denize/Cristina	Curso: E.Fund I ( ) E.Fund II ( ) E.Médio ( )	Nº.:
Educando (a):	Ciente:	

## Instruções

**Desenvolvam as atividades para serem entregues no retorno às aulas de modo que os professores as avaliem.**

**Tendo a possibilidade, imprimir as tarefas para realizá-las.**























**Caso não possa imprimir, fazer em qualquer tipo de papel só enumerando os exercícios, sem precisar copiar os enunciados e figuras.**

Preste atenção nos exercícios e faça o que se pede.

1-) Leia a historinha da dona Mariquinha e responda o exercício.

## ***sistema monetário***

Dona Mariquinha está fazendo uma liquidação na sua loja e colocou vários produtos em promoção. Pinte as notas que você precisa para fazer as compras.

 <p>R\$ 85,00</p>	     
 <p>R\$ 17,00</p>	    
 <p>R\$ 35,00</p>	   
 <p>R\$ 7,00</p>	  

2-) Escreva por extenso os valores de cada dinheiro:



a-)



b-)




c-)

3-)





### QUAL É O TROCO?

Paulo comprou uma bola. Ele deu uma nota de R\$ 10,00. Quanto ele recebeu de troco?



Resposta: Ele recebeu R\$ 5,20 de troco.

Agora faça o mesmo, completando o quadro abaixo:

Você comprou	Deu em dinheiro	Recebeu de troco
R\$ 9,50 	R\$ 20,00	
R\$ 33,80 	R\$ 50,00	
 R\$ 159,00	R\$ 200,00	
R\$ 52,90 	R\$ 100,00	
 R\$ 41,70	R\$ 50,00	

4-) Resolva as continhas:

a-) C D U

+ 8 5 4

2 1 0

\_\_\_\_\_

b-) C D U

+ 3 2 3

2 0 2

\_\_\_\_\_

c-) C D U

2 0 7

x 2

\_\_\_\_\_

d-) C D U

1 2 0

x 2

\_\_\_\_\_

e-) C D U

4 5 3

x 3

\_\_\_\_\_

f-) C D U

3 9

x 3

\_\_\_\_\_

g-) C D U

1 8

x 2

\_\_\_\_\_

h-) C D U

2 3 4

x 3

\_\_\_\_\_