

Disciplina: Geografia

Data: / / 2020

Turma: 4º Ano

Educador(a): Ana Beatriz

Curso: E. Fund I ( ) E.Fund. II ( ) E.Médio ( )

Nº.:

Educando(a):

Ciente:


## Instruções

Desenvolvam as atividades para serem entregues no retorno às aulas de modo que os professores as avaliem.

Tendo a possibilidade, imprimir as tarefas para realizá-las.



Caso não possa imprimir, fazer em qualquer tipo de papel só enumerando os exercícios, sem precisar copiar os enunciados e figuras.

1) Observe a paisagem abaixo e depois marque um X apenas no nome dos elementos que podem ser observados nessa paisagem.



- a) ( ) pôr-do-sol
- b) ( ) carros
- c) ( ) casa
- d) ( ) bicicleta

2) Marque um X na paisagem que foi transformada pelo homem pra construir cidades:



3) Leia o texto abaixo e depois responda as questões:

### OS ÍNDIOS E A PAISAGEM

Os índios modificam a paisagem para sobreviver. Só corta uma árvore para fazer uma casa, uma flecha, uma canoa.

Só matam um animal quando estão com fome. Só colhem uma fruta quando vão comer.

a) Qual é o título do texto? \_\_\_\_\_

b) Os índios só corta uma árvore para:

( ) fazer uma casa, uma flecha, uma canoa.

( ) fazer cadeira, mesa e casa.

4) Observe a cena abaixo :



a) Porque Chico Bento se preocupou em jogar água nas plantas?

( ) porque as plantas precisam de água para sobreviver.

( ) porque ele esta brincando de fazendeiro.

5.Observe a segunda imagem do exercício 2 e responda:

- a) Quais elementos naturais é possível observar?
- b) Qual elemento cultural é possível observar nesta imagem?