

Disciplina: Matemática

Data: / / 2020

Turma: 2º Ano

Educador(a): Claudia Ferraris

Curso: E. Fund I () E.Fund. II () E.Médio ()

Nº.:

Educando(a):

Ciente:

Instruções

Desenvolvam as atividades para serem entregues no retorno às aulas de modo que os professores as avaliem.

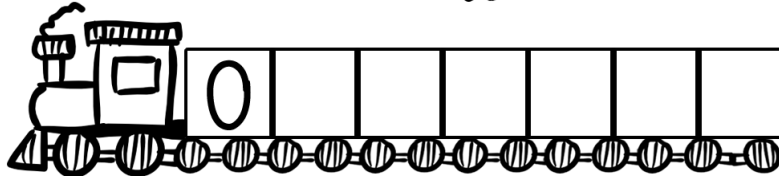
Tendo a possibilidade, imprimir as tarefas para realizá-las.

Caso não possa imprimir, fazer em qualquer tipo de papel só enumerando os exercícios, sem precisar copiar os enunciados e figuras.

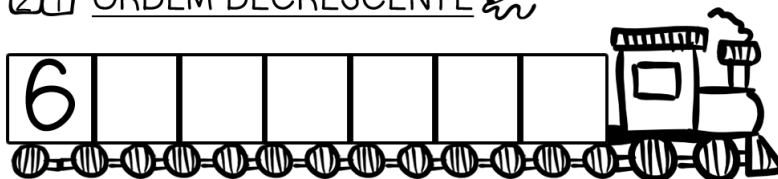
**PODEMOS ORGANIZAR OS NÚMEROS DE FORMA DIFERENTE.
EM ORDEM CRESCENTE OU EM ORDEM DECRESCENTE.**

1- COMPLETE OS VAGÕES DOS TRENS COM OS NUMERAIS EM SEQUÊNCIA:

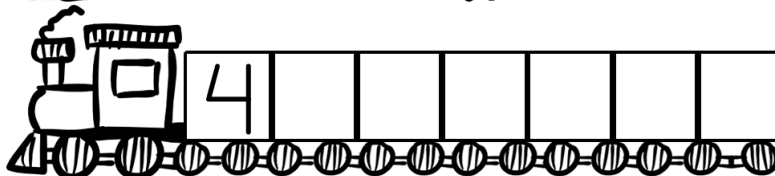
¹
23 ORDEM CRESCENTE ✍



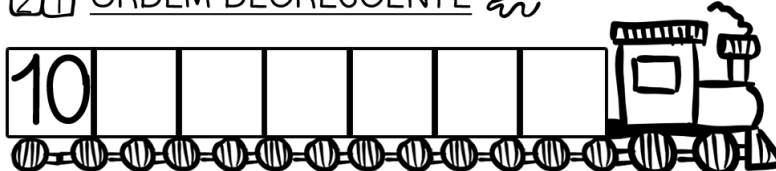
³
21 ORDEM DECRESCENTE ✍



⁷
23 ORDEM CRESCENTE ✍



³
21 ORDEM DECRESCENTE ✍



2)

COMPLETE A SEQUÊNCIA NUMÉRICA									
1				5				9	10
11	12						18		20
21				25					30
31	32						38		40
41				45					50