

Disciplina: Matemática

Data: 07 /04 / 2020

Turma: 1º Ano

Educador(a): Tatiani

Curso: E. Fund I ( ) E. Fund. II ( ) E. Médio ( )

Nº.:

Educando(a):

Ciente:

## Instruções






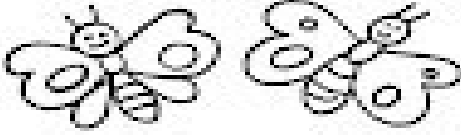
Desenvolvam as atividades para serem entregues no retorno às aulas de modo que os professores as avaliem.

Tendo a possibilidade, imprimir as tarefas para realizá-las.

Caso não possa imprimir, fazer em qualquer tipo de papel só enumerando os exercícios, sem precisar copiar os enunciados e figuras.

## ATIVIDADES

### CONTAR e LIGAR

5	•	•	
3	•	•	
6	•	•	
10	•	•	
2	•	•	
1	•	•	

A curved line connects the number 2 in the first column to the ladybugs in the fourth row of the second column.



ESCOLA: \_\_\_\_\_

TURMA: \_\_\_\_\_ PROFESSOR(A): \_\_\_\_\_

EU SOU: \_\_\_\_\_

\_\_\_\_\_

1- LEVE ATÉ A MÃO DO URSINHO O BALÃO COM A QUANTIDADE DE BOLINHAS CORRESPONDENTE AO NUMERAL INDICADO EM SUA BARRIGA.

